

# 泉州市 2020 届高中毕业班模拟测试卷（二）

## 文科综合试题 4月

（完卷时间：150 分钟；总分 300 分）

### 注意事项：

1. 本试题卷分第 I 卷（选择题）和第 II 卷（非选择题）两部分。答卷前，考生务必将自己的姓名、准考证号填写在答题卡上。
2. 回答第 I 卷时，选出每小题答案后，用 2B 铅笔把答题卡上相对应题目的标号涂黑。如需改动，用橡皮擦干净后，再选涂其它答案标号。写在试题卷、草稿纸和答题卡上的非答题区域均无效。
3. 回答第 II 卷时，使用 0.5 毫米的黑色中性（签字）笔或碳素笔书写，将答案写在答题卡的相应位置上。写在试题卷、草稿纸和答题卡上的非答题区域均无效。
4. 保持答题卡卡面清洁，不折叠，不破损。

### 第 I 卷（选择题共 140 分）

本卷共 35 小题。每小题 4 分，共 140 分。在每个小题给出的四个选项中，只有一项是最符合题目要求的。

松茸是一种名贵野生食用菌，对环境条件要求严格，完全靠人工限时采集，保质期短。四川省甘孜藏族自治州雅江县是中国松茸之乡，某快递企业在松茸集中产区投入百余架无人机，解决了松茸下山“第一公里”的运输问题，为当地藏族群众增产增收发挥了显著作用。图 1 示意帕姆岭寺等高线分布，据此完成 1~3 题。

1. 与背松茸下山的传统运输方式相比，选择无人机运输方式

- |         |          |
|---------|----------|
| ①降低了灵活性 | ②保持松茸新鲜度 |
| ③减少松茸损耗 | ④受天气的影响小 |
- A. ①②      B. ②③  
C. ①④      D. ③④

2. 雅江县帕姆岭寺成为某快递企业无人机营地之一的主要原因是

- |             |             |
|-------------|-------------|
| A. 地势高网络信号强 | B. 地形平坦便于集散 |
| C. 气温低有利于保鲜 | D. 公路通达运输便利 |

3. 物流企业在当地布局无人机对于松茸产业的影响有

- |           |           |
|-----------|-----------|
| A. 松茸产量增加 | B. 劳动力剩余  |
| C. 松茸质量提高 | D. 销售价格上涨 |

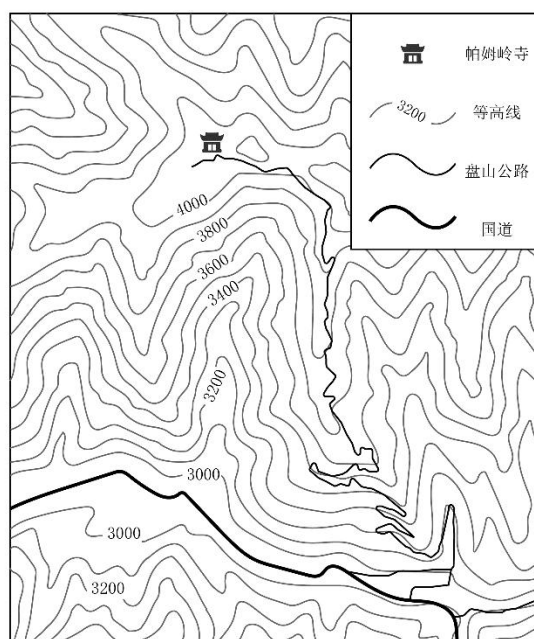


图 1

吉林辽源因煤而生，20世纪60年代，辽源不仅盛产煤炭，纺织业也发达。2005年，辽源被列为首批国家资源枯竭型城市，同年，全国第一个由民营企业建设的袜业集中工业园区——东北袜业纺织工业园开工建设。经过多年耕耘，虽然与拥有全自动织袜机、产品不断创新的浙江诸暨有一定差距，但确定了“南有诸暨、北有辽源”的袜业发展格局。据此完成4~5题

4.作为东北的重工业城市，转型发展袜业的最主要的优势条件

- A. 政策支持
- B. 产业基础
- C. 市场需求
- D. 交通便利

5.与浙江诸暨相比，辽源袜业未来的发展应着眼于

- A. 扩大规模
- B. 品牌推广
- C. 科技创新
- D. 招商引资

东海道新干线（515km）最高运营时速达200 km/h，连接日本东京、大阪两大经济中心，与旧式普速铁路相比，它将时间距离缩短到原来的1/9左右，大大降低了人员流动成本。相比之下，我国京沪高速铁路（1318km）上的350km/h的最高速度高于日本的最高速度320km/h，京沪高铁沿线设站24个，单个站的规模都赶超日本，但日本在大力发展新干线的同时仍保留大量的普速铁路。图2示意东海道新干线分布。据此完成6~8题。

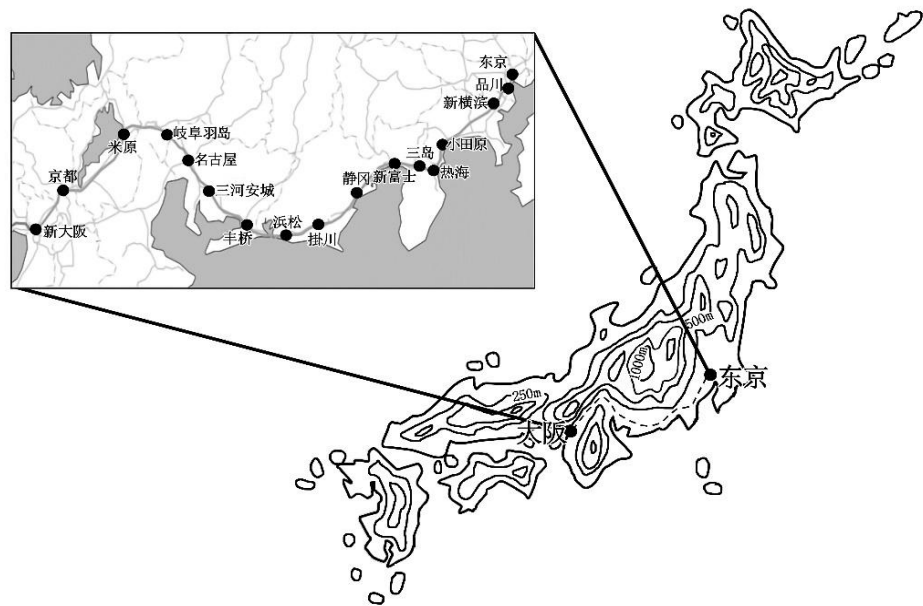


图2

6.日本至今仍保留大量的普速铁路主要用于

- A. 旅游观光
- B. 城际间货运
- C. 长途客运
- D. 城市内运输

7.东海道新干线难以长时间保持最高速度行驶的主要原因是

- A. 铁路技术限制
- B. 自然灾害频发
- C. 维护成本高
- D. 地形起伏影响

8.与我国高铁站相比，日本高铁站的规模普遍偏小是因为日本

- A. 站点密度大
- B. 人口总量小
- C. 土地面积小
- D. 环保意识高

裂点是河床纵剖面上，缓坡段与陡坡段的转折处。它的形成与河流的溯源侵蚀、河床的构造运动、岩性变化有密切关系，常形成瀑布。在越溪河汇入嘉陵江的河口，出现了河流裂点，加剧了越溪河的溯源侵蚀，在临近河口的越溪河段因此出现河流瀑布。图2示意嘉陵江流域部分区域，图3示意越溪河下游研究区河流纵断面，据此完成9~11题。

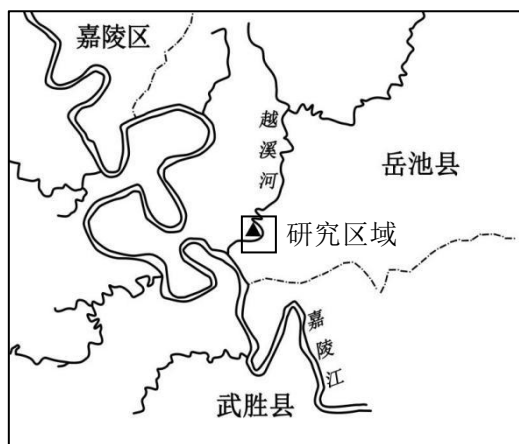


图3

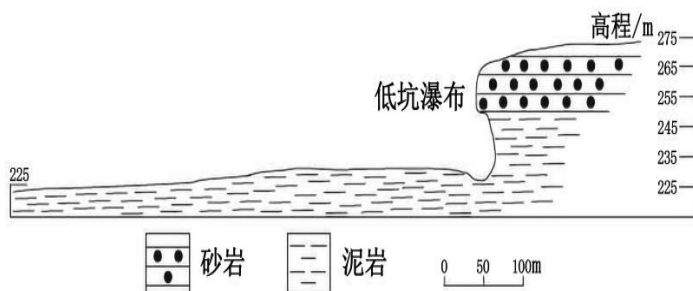
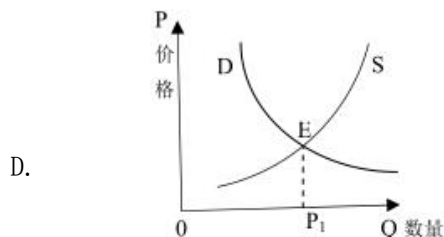
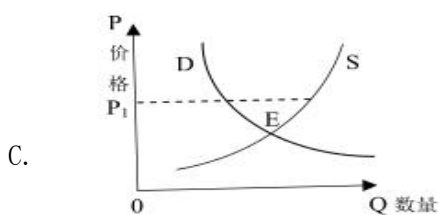
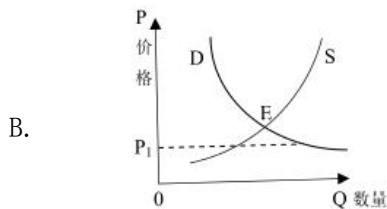
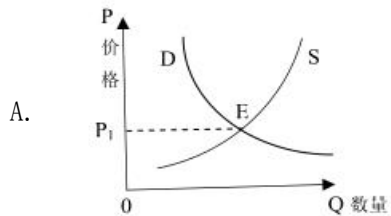


图4

9. 在越溪河汇入嘉陵江处，河流裂点出现的主要原因是
- A. 嘉陵江流量大，侵蚀能力强                      B. 越溪河含沙量大，侵蚀能力强
- C. 嘉陵江流量大，堆积能力强                      D. 越溪河含沙量大，堆积能力强
10. 越溪河下游地区瀑布出现的主要原因是
- A. 河床岩性的差异                                      B. 上下游流速差异
- C. 河流含沙量差异                                      D. 植被覆盖率差异
11. 河口处与瀑布附近上游的河谷地貌出现了显著差异
- A. 瀑布上游为V型谷地，流速慢                      B. 河口处为宽阔谷地，流速慢
- C. 瀑布上游为宽阔谷地，流速快                      D. 河口处为V型谷地，流速快
12. 2020年伊始，世界各国相继出现新型冠状病毒疫情病例。我国在疫情防控期间，为稳定市场秩序、保护消费者的利益，不少地方对口罩、食品等商品实行最高限价，加强市场监管。不考虑其他因素，该监控价格( $P_1$ )反映在下列图示(D、S分别代表口罩等商品的市场需求量和供给量，E代表市场均衡价格)中合理的是



13. 2018年5月11日至2020年3月18日，人民币对美元的汇率中间价（人民币元/1美元）由6.3768震荡走高至7.0328，这对我国对外经济造成重要影响。若不考虑其他因素，下列推导正确的是
- 美元升值→美国商品的价格下降→中国居民海外代购日益红火
  - 美元贬值→中国企业海外并购步伐加快→中国企业在美国投资迅速扩大
  - 人民币贬值→中国企业在美国投资成本上升→中国企业在美国投资萎缩
  - 人民币升值→中国企业在美国投资成本下降→中国企业在美国投资扩大
14. 党的十九届四中全会强调，要重视发挥第三次分配最佳效果、发展慈善等社会公益事业。第三次分配是在道德、文化、习惯等影响下，社会力量自愿通过民间捐赠、慈善事业、志愿行动等方式济困扶弱的行为，是对再分配的有益补充。下列情况属于第三次分配的是
- 为修建村老人活动场所，村委会向政府申请获得财政专项拨款
  - 按政策要求，某私营企业向税务部门缴纳足额的教育费附加
  - 某乡发动乡贤集资，帮助贫困户进行危房改造
  - 按绿色发展理念的要求，某企业增加投资，改造升级排污系统
15. 从“蒜你狠”到“蒜你惨”、从“火箭蛋”到“伤心蛋”……近年来，农产品价格出现“周期性怪圈”也屡见不鲜，引起社会广泛关注。下列举措中，有助于有效打破该“周期性怪圈”魔咒的是
- ①市场发挥价格机制，引导农业资源合理配置
  - ②准确搜集农产品供求信息，面向市场生产适销对路的高质量农产品
  - ③促进农业产业化生产，提高农业社会生产率，提高农产品的价值量
  - ④搞好“农超对接”，建立产销一体化的运营机制，稳定供求关系
- A. ①③                  B. ①④                  C. ②③                  D. ②④
16. 2019年11月25日，某村举行由县领导、乡党委书记、驻村工作队、乡驻村干部、村支“两委”成员、党员代表及30余位村民共同参与的“看国家成就·谈家乡变化”乡村夜话活动。该活动成为了解民情民意、化解民生难题的重要形式，成为解决新时代文明实践在农村“最后一米”的好办法。乡村夜话活动
- ①是基层民主最为广泛而深刻的实践                  ②是对农村基层自治组织形式的创新
  - ③能密切党群关系提升乡村治理水平                  ④是对农村基层民主形式进一步丰富
- A. ①②                  B. ①③                  C. ②④                  D. ③④
17. 2019年4月30日，《国务院关于在线政务服务的若干规定》正式发布实施，提出推进各地区、各部门政务服务平台规范化、标准化、集约化建设和互联互通，推动实现政务服务事项全国统一、全流程网上办理，促进政务服务跨地区、跨部门、跨层级数据共享和业务协同，并依托一体化在线平台推进政务服务线上线下深度融合。推行在线政务服务旨在
- ①优化营商环境，全面提升政务服务便利化水平
  - ②弱化政府职能，实现管理型向服务型政府转变
  - ③促进依法行政，提高政府行政效率和管理水平
  - ④强化法律监督，全面实现政务服务均衡化发展
- A. ①②                  B. ①③                  C. ②④                  D. ③④

18. 2020年2月24日,十三届全国人大常委会第十六次会议表决通过了《关于全面禁止非法野生动物交易、革除滥食野生动物陋习、切实保障人民群众生命健康安全的决定》(以下简称《决定》)。到底哪些算野生动物,哪些能吃哪些不能吃《决定》并未明确。假如你是一位人大代表,可以
- ①提交设立禁止食用野生动物黑名单和白名单制度的提案  
 ②积极进行社会调研,广泛听取和反映群众的意见和建议  
 ③行使立法权,制定禁止非法野生动物交易的地方性法规  
 ④就市民产生的食用困惑对政府相关部门进行质询和监督
- A. ①②                      B. ①③                      C. ②④                      D. ③④
19. “山川异域,风月同天”“岂曰无衣,与子同裳”“青山一道同云雨,明月何曾是两乡”……在疫情肆虐之时,日本捐赠给中国的抗疫物资上的诗句迅速走红网络。诗词的魅力,跨越了国界,将一切善良和美好,凝聚成人类最可贵的财富,也感动着每一个中国人。材料表明
- ①中日文化具有相似的历史传统                      ②优秀文化总能给人以特有的感召力  
 ③中日文化在长期交流中达到相互融合                      ④该做法是对中华文化传播方式的创新
- A. ①②                      B. ①③                      C. ②④                      D. ③④
20. 2019年11月12日,“此中真味——齐白石艺术里的中国哲思”展览在希腊首都雅典塞奥哈拉基斯古典艺术及音乐基金会美术馆开幕。展览共展出126件齐白石艺术作品,通过“不似之似”“象外之意”“物我之际”三大板块,反映中国人的形神观、意境观与宇宙观。此次展览唱响中希文化交流与融合的交响乐,为“一带一路”下的文化之路添彩增色。由此可见
- ①中国哲学思想已被西方国家接纳                      ②东西方形神观、意境观与宇宙观本质上是一致的  
 ③精神产品凝结于一定的物质载体                      ④国际文化交流促进国际文化互鉴
- A. ①②                      B. ①③                      C. ②④                      D. ③④
21. “山近月远觉月小,便道此山大于月。若有人眼大如天,当见山高月更阔。”这是明代思想家王守仁的《蔽月山房》,与此中哲理最接近的是
- A. 问渠那得清如许,为有源头活水来                      B. 若言声在指头上,何不于君指上听  
 C. 不识庐山真面目,只缘身在此山中                      D. 纸上得来终觉浅,绝知此事要躬行
22. 2020年3月20日,中共中央、国务院发布《关于全面加强新时代大中小学劳动教育的意见》,要求根据各地区和学校实际,结合当地在自然、经济、文化等方面条件,充分挖掘行业企业、职业院校等可利用资源,宜工则工、宜农则农,采取多种方式开展劳动教育,避免“一刀切”,以提升育人实效性。这说明
- ①具体问题具体分析是正确认识事物的基础                      ②具体问题具体分析是正确解决矛盾的关键  
 ③普遍性寓于特殊性,并通过特殊性表现出来                      ④承认矛盾的普遍性是坚持唯物辩证法的前提
- A. ①②                      B. ②③                      C. ①④                      D. ③④

23. 图中漫画《沙土：攥的紧流失快》给我们的启示是

- ①要敢于想办法摆脱客观条件的束缚
- ②只有尊重客观规律，我们才能取得成功
- ③要推动事物的发展一定要重视量的积累
- ④要做到一切以时间、地点、条件为转移

- A. ①②    B. ①③    C. ②④    D. ③④



图 5

24. 《论语》记载，伯牛生病了，孔子去慰问他，隔着窗户握着伯牛的手说：“亡之，命矣夫！斯人也而有斯疾也！斯人也而有斯疾也！”这一记载

- A. 说明春秋时期已经确立了疫病隔离制度
- B. 反映了儒家学派对探视病人的礼节规范
- C. 可作为研究当时传染病防治的一手资料
- D. 可用于论证儒家“天人感应”思想的来源

25. 表 1 士族在东汉至唐朝时期的官场所占的比例 (%)

| 东汉末年 | 东晋南朝 | 北魏初期 | 北魏后期 | 隋朝 | 唐安史之乱前 | 唐安史之乱后    |
|------|------|------|------|----|--------|-----------|
| 29   | 约 80 | 31   | 79.7 | 67 | 约 65   | 56--89 之间 |

据此可知，当时

- A. 门第出身对个人仕途具有较大影响
- B. 少数民族统治者借鉴中原先进制度
- C. 改朝换代沉重地打击了士族的统治
- D. 科举制度极大削弱了士族政治特权

26. 唐宋多位皇帝倡导不同宗教和谐共生，如唐玄宗亲自为《孝经》、《金刚经》、《道德经》三本书注释，并将注本颁行天下；南宋孝宗强调“以佛修心、以道养生、以儒治世”。这说明

- A. 儒学已经丧失正统地位
- B. 三教合一成为传统文化主流
- C. 理学有广泛的思想基础
- D. 统治者注重宗教的实用功能

27. 1629 年，明政府命徐光启监督编纂《崇祯历书》，该书介绍了哥白尼的地球自转说，但当时中国社会的一些知识分子对哥白尼的学说持否定意见。哥白尼的学说在当时的中国并没有引起重视。这反映了

- A. 君主专制不断强化
- B. 当时科技愚昧落后
- C. 知识分子重道轻器
- D. 闭关锁国盲目自大

28. 图 6 是法国某年报刊上登载的一幅漫画《抬着大炮去北京》。

- A. 掀起了列强瓜分中国的狂潮
- B. 遭到了中国军民的联合反抗
- C. 旨在要求外国公使进驻北京
- D. 直接激发了民主革命的兴起



图 6

29. 表 2 19 世纪后期清政府举办的煤矿企业统计表

| 名称      | 开办时间   | 停办年份及原因    | 创办人        | 经营方式 |
|---------|--------|------------|------------|------|
| 湖北兴国煤矿  | 1875 年 | 1875 年经费无着 | 盛宣怀(李鸿章幕僚) | 官办   |
| 台湾基隆煤矿  | 1876 年 | 1892 年亏损   | 沈葆楨(台湾巡抚)  | 官办   |
| 广西富川煤矿  | 1880 年 | 1886 年质劣   | 叶正邦(广西地方官) | 官督商办 |
| 湖北马鞍山煤矿 | 1891 年 | ——         | 张之洞(湖广总督)  | 官办   |

据此可知，这一时期的中国

- A. 民族资本主义产生和初步发展
- B. 民族工业地域分布均衡
- C. 民族工业遭到列强的资本制约
- D. 近代民族工业发展艰难

30. 1920年，北京、上海、广州等地的工人和学生首次举行了庆祝“五一国际劳动节”的活动；1949年12月，中华人民共和国中央人民政府将5月1日定为法定的劳动节，并规定放假一天；1999年9月，国务院将“五一”节日加上调休，全国放假7天。这些做法

- A. 有利于推动城市工人运动的发展
- B. 有利于改善工人待遇和提高地位
- C. 为了服务国家开展各项文娱活动
- D. 为了与社会主义国家劳动节接轨

31. 1946年4月，南京国民政府公布的《修正土地法草案趣旨之说明》中说：“扶植自耕农。农地以归农民自耕之原则，实符国父耕者有其田之主张。”1947年9月，中共中央通过了《中国土地法大纲》：“规定彻底废除封建性及半封建性剥削的土地制度；规定实行耕者有其田的土地制度”。以上说明

- A. 两党都在争取农民阶级的支持
- B. 国民党为内战做了充分准备
- C. 中共彻底消灭地主阶级的决心
- D. 两党大力扶植自耕农的发展

32. 在古代罗马，经君主授权的法学家可以通过答复法律、指导办案、著书立说等方式变更法律。这些法学家具有高深的法学理论素养及对社会敏锐的洞察力。这表明古代罗马

- A. 法学家推动法律走向完备
- B. 法律变更具有很大随意性
- C. 法律适应时代需要而演变
- D. 法学家可左右法律的解释

33. 1824年，美国人吉本斯用汽船在纽约市和新泽西州的伊丽莎白镇间摆渡载客，违反了纽约州法律而遭起诉，被纽约州法院禁航。吉本斯不服判决，上诉至联邦最高法院，最终胜诉。当时新泽西的一家报纸评论：“水域至今终于自由了！”这反映了美国

- A. 1787年宪法加强了中央政府权力
- B. 自由主义消除了州权主义观念
- C. 地方各州法院从属于联邦最高法院
- D. 工业革命推动了国家结构调整

34. 1929年，外国资本主义国家与苏联签订了70多个技术援助协定；到1931年，外国专家与苏联达成的技术援助协定增长到124个，此后签订的技术援助协定逐年增加。这说明苏联

- A. 一五计划期间政府加大了工业投入
- B. 改变计划经济管理体制
- C. 工业化建设以牺牲农民利益为代价
- D. 极力改善与西方的关系

35. 图7是国际货币体系变迁示意图。这一变迁表明

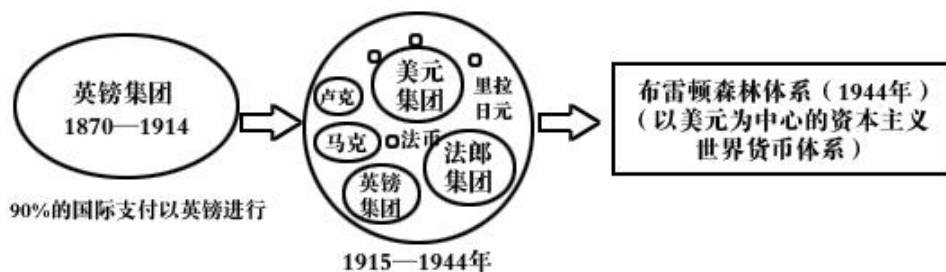


图7

- A. 经济实力影响经济霸权的确立
- B. 国际金融领域从无序走向有序
- C. 美国的世界霸主地位最终确立
- D. 战后经济全球化趋势不断增强

## 第 II 卷（非选择题，共 160 分）

二、非选择题:共 160 分。第 36-42 为必考题，每个试题考生都必须作答。第 43-47 题为选做题，考生根据要求作答。

(一)必考题:共 135 分。

36. 阅读图文材料，完成下列要求。（24 分）

材料一 2020 年初，非洲东部多国遭受严重的沙漠蝗虫灾害。尽管周边各国采取了一定程度的扑杀措施，但收效甚微，蝗灾仍不断向周边国家地区蔓延。研究表明，此次蝗灾源于阿拉伯半岛东部的鲁卜哈利沙漠，该地沙质沙丘高大而密布，形成延绵不绝的沙山，是世界上最大的流动沙漠。2018-2019 年该地区的异常气旋风暴活动使沙山之间低洼处短暂出现了湖泊。

材料二 沙漠蝗虫将卵产于地下，虫卵靠吸收土壤当中的水分孵化。顶部干燥底部潮湿的土壤、较低的植被覆盖率是沙漠蝗的理想产卵地。沙漠蝗虫食谱广，繁殖快，属于暴发性、迁飞性和毁灭性害虫。

材料三 图 8 示意东非蝗群迁徙路线与受灾地区。

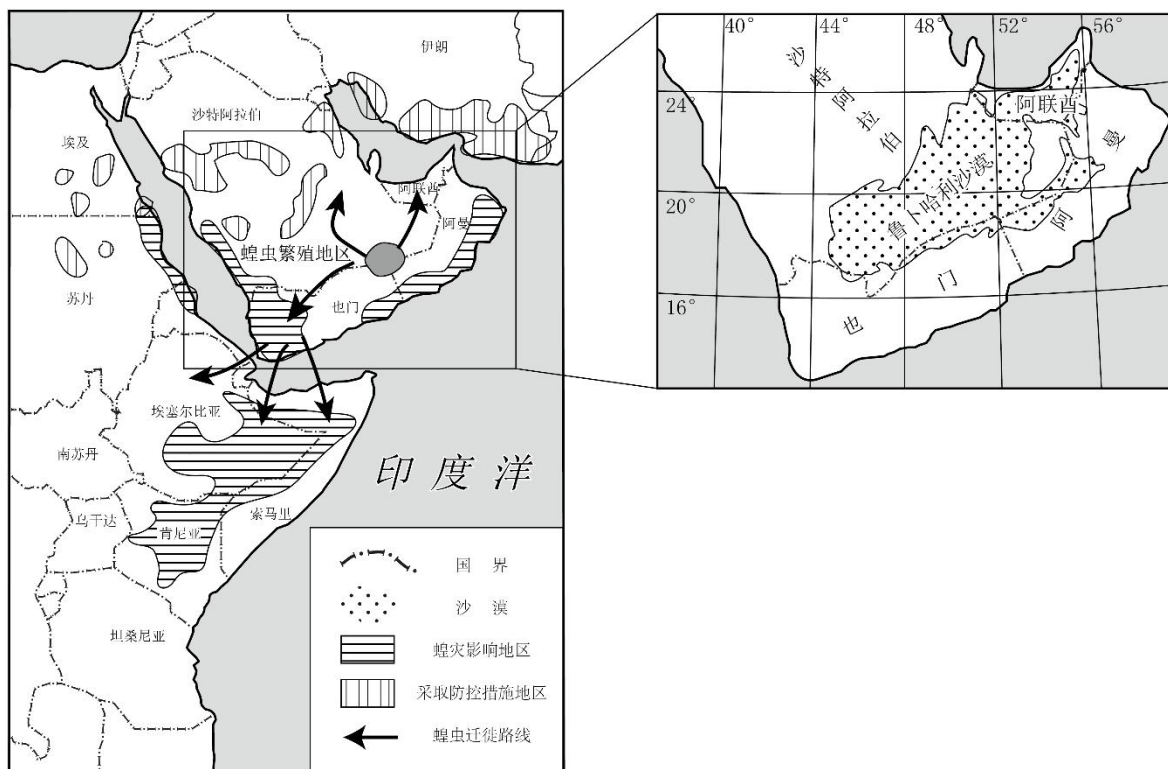


图 8

- (1) 简析鲁卜哈利沙漠流动性强的原因。（6 分）
- (2) 从气候的角度说明异常的气旋风暴活动有利于蝗虫繁殖的原因。（6 分）
- (3) 分析非洲蝗灾源头防治较难的原因。（6 分）
- (4) 评价当地采取喷洒化学杀虫剂的治蝗措施。（6 分）



37. 阅读图文材料，完成下列要求。（22分）

广东连平县肖屋村有一种古老捕鱼设施—鱼梁，其用木桩、竹子和藤等制成置于河中，依靠湍急的水流，将鱼冲到竹编斜坡上拦截（图9示意鱼梁景观和鱼梁结构），这是古人考虑人与自然和谐共生的智慧创造。连平县已将鱼梁捕鱼技艺申报为非物质文化遗产。图10示意肖屋村地理位置。（24分）

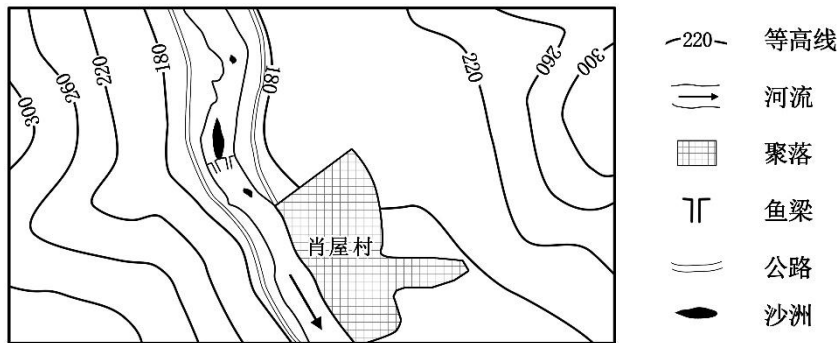


图9

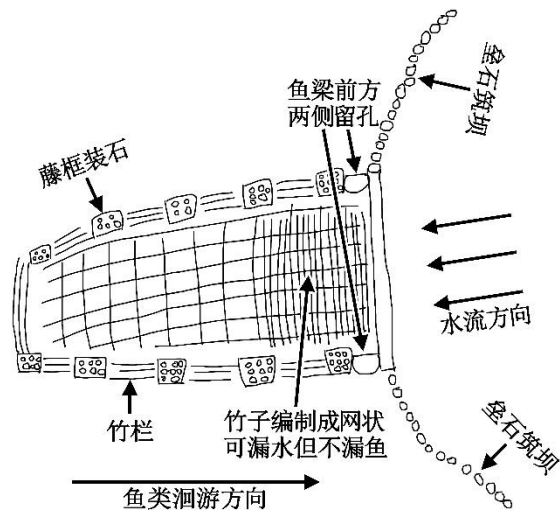


图10

- (1) 鱼梁设计精妙，请解释当地人如何利用鱼梁捕获下游河段的鱼。（6分）
- (2) 分析鱼梁设施对当地自然地理环境的不利影响。（6分）
- (3) 相比钢筋水泥，现在当地建造新鱼梁仍多采用传统材料，说明原因。（6分）
- (4) 有观点认为未来鱼梁的捕鱼功能会逐渐荒废，请推测其理由。（4分）

38. 阅读材料，完成下列要求。（14分）

消费扶贫是社会各界通过消费来自贫困地区和贫困人口的产品与服务，帮助贫困人口增收脱贫的一种扶贫方式，是社会力量参与脱贫攻坚的重要途径。

根据《消费扶贫助力决战决胜脱贫攻坚2020年行动方案》，2020年3月，国家发展改革委等28个部门将联合开展30项具体行动，整合资源形成合力，共同打通在消费、流通、生产各环节制约消费扶贫的痛点、难点和堵点，积极开展产销对接，切实解决贫困地区农畜产品滞销问题，多渠道促进贫困地区旅游服务消费，最大程度化解新冠肺炎疫情对贫困地区农产品销售和贫困群众增收带来的不利影响。

政策虽好，落地不易，其原因归纳起来有以下几点：一是消费扶贫供应不足。一方面自给自足是贫困人口的生活常态，只有少量自身消费不了的剩余产品进入市场交易，无法满足城市居民绿色原生态消费需求；另一方面贫困地区资源相对贫乏，乡村旅游要素不全，难以吸引城市游客，从而导致消费扶贫供给总量不足。二是贫困人口诚信欠缺。不少乡村农户自己吃的和进市场销售分开种养，自己吃的使用农家肥，而进入市场销售的大量使用农药、化肥和含有激素的饲料，让城市消费者无法放心购买。三是消费扶贫渠道不畅。农民进城卖点自家出产的农产品基本上只有两个办法，一是批发给有摊位的小商贩，二是跟城管打游击战。四是团体消费制约太多。消费扶贫个人购买只是一方面，更多地要依靠团体消费实现。但目前大型企业、单位食堂、职工福利、工会活动等团体消费受政策制约较多。

消费扶贫要不成为“鸡肋”，需整合资源形成合力。运用经济生活知识对此加以说明。（14分）

39. 阅读材料，完成下列要求。（12分）

新型冠状病毒没有国界，不分种族，是全人类面临的共同挑战。唯有秉持“人类命运共同体”理念，国际社会形成合力，才能战而胜之。

面对突如其来的新型冠状病毒肺炎疫情，中国举全国之力，用中国力量筑牢组织疫情蔓延的前沿阵线；第一时间识别出病原体，并与世界分享病毒基因序列，积极分享信息和防疫经验，用中国速度为各国开展有效防疫争取了宝贵时间；主张凝聚合力，开展药物、疫苗研发、防疫合作，共同帮助公共卫生体系薄弱的发展中国家提高应对能力，积极支持世界卫生组织等国际组织发挥作用。

不仅如此，在全球疫情进入大流行的关键时刻，中国人民还克服自身困难，向一些疫情严重和卫生体系薄弱的国家提供帮助，从最新诊疗、防控方案及时分享给180个国家和10多个国际和地区组织，派出多个专家医疗组深入多国疫情防治一线，并结合当地情况提供相应抗疫经验指导和咨询；在疫情稳定后，尽可能复工复产，为世界抗击疫情提供大量防疫和抗疫物资。这些无不传递着同舟共济的中国情怀与大国担当，也展现了中国秉持人类公利大义、与世界共同应对疫情的天下情怀。

世界要最终战胜新型冠状病毒离不开全世界人民的共同努力。请你结合当代国际社会知识，谈谈你对中国秉持人类命运共同体理念践行抗疫大国责任的认识。（12分）

40. 阅读材料，完成下列要求。（26分）

南音，是中国现存最古老的乐种之一，作为“中国音乐历史活化石”和闽南文化的瑰宝，泉州南音绵延千年历史。

2009年10月1日，福建南音（泉州弦管）正式被联合国教科文组织列入人类非物质文化遗产代表作名录。申遗成功十年来，泉州大力推动南音的保护传承、创新发展、交流互鉴，南音的历史文化价值和社会功能逐步得到广泛认同。为保障南音项目传承保护工作的正常运行，泉州市逐年增加公共财政投入，年均投入700多万；组织专家对南音遗产全面“盘点”造册登记，实施“泉州南音记录工程”，全面系统录存古曲；通过创办泉州南音记录网站，开发数字化智能曲谱，创办南音新剧目等方式，大力推广南音创新发展；推进南音进课堂，实现南音在泉州大、中、小学各个层次传播普及；先后举办十三届南音国际大会唱，组团参加新加坡、菲律宾、马来西亚、印度尼西亚等国家和地区的大会唱。如今，南音成为亚洲艺术节、海上丝绸之路国际艺术节、世界闽南文化节等重大文化活动的保留项目，其知名度和影响力不断提高。

有人认为，在保留传承南音基本特色的同时，应使其充分和市场及迅速发展的文化产业对接，加强南音的开发势在必行。

(1) 结合材料，运用文化生活知识，概括申遗成功十年来泉州大力推动南音文化的传承与发展的成功经验。（10分）

(2) 结合材料，运用矛盾的基本属性的知识，说明如何正确处理南音的传承保护和开发利用的关系。（10分）

(3) “传承文化根脉，共筑民族未来”是2019年文化和自然遗产日的口号之一。班级围绕该口号召开主题班会，请列举两个发言要点。（6分）

41. (25分) 阅读材料，完成下列要求。

材料一 19世纪60至90年代，中外出现了“暂时和好”，国内基本安定，官僚求富求强的“洋务运动”轰轰烈烈，西方技术、资金和人才得以引进，新式海陆军得以编练，一大批近代军工企业、民用企业以及新式学校得以创办，留学生也开始被派遣到海外。中国进入一个特定时期，就是“同光中兴”。中国拥有了亚洲第一的兵工厂、钢铁厂、近代海军等。但中国仅仅是逐渐吸收、引进、建立了单独的某个企业、某个工厂、学校。是属于个体的西化，其国家整体的建设，仍然以儒家思想、封建制度而建设的。所以，企业的发展，社会的进步，受到了当时既得利益者——封建势力的严重制约。整个社会没有进入机械化大生产阶段，单一的建造个别的工厂企业是没有实际意义的，整个社会、国家的落后局面依然继续。

——摘编自《剑桥中国晚清史》等

材料二 二战后，欧洲国家经济普遍衰落，社会动荡。1946年，英国前首相丘吉尔提议建立“欧洲合众国”，其他人士的类似声明不断提出。1947年，美国国务卿马歇尔提出“欧洲复兴计划”，号召欧洲人团结起来、共同规划一个他们自己的重建欧洲计划，由美国为这一计划提供资金。此后，西欧各国通过参加经济合作发展组织总共接受了美国包括金融、技术、设备等各种形式的援助合计130亿美元。当该计划临近结束时，西欧国家中除了德国以外的绝大多数参与国的国民经济都已经恢复到了战前水平。在接下来的20余年时间里，整个西欧经历了前所未有的高速发展时期，可以说这与马歇尔计划不无关系。马歇尔计划减弱了历史上长期存在于西欧各国之间的关税及贸易壁垒，使西欧各国的经济联系日趋紧密，并最终走向一体化。

——摘编自《世界近现代史研究》等

(1) 根据材料一并结合所学知识，概括“同光中兴”的主要原因并简要评述。(13分)

(2) 根据材料二并结合所学知识，概括二战后欧洲复兴的特点和启示。(12分)

42. 阅读材料，完成下列要求。(12分)

材料

表 3

| 时间     | 内 容  |
|--------|--|
| 1920 年 | 由于多次的交谈，一些当时的马列主义者，更加明白了苏俄和苏共的情况，得到了一致的结论：“走俄国人的路”。  |
| 1928 年 | 各省自发的农民游击战争，只有和“无产阶级的城市的新的革命高潮相联结起来”，才可能变成“全国胜利的民众暴动的出发点”。   |
| 1928 年 | 半殖民地中国的革命，只有农民斗争得不到工人的领导而失败，没有农民斗争的发展超过工人的势力而不利于革命本身的。   |
| 1956 年 | 适当调整 and 平衡工业与农业两大产业、重工业与轻工业两大部类的比例关系；既要坚持中国共产党的领导，又要坚持同各民主党派“长期共存，互相监督”。                              |
| 1982 年 | 我们的现代化建设，必须从中国的实际出发，不论是革命还是建设，都要注意学习和借鉴外国经验。但是，照搬照抄别国经验，从来不能得到成功。把马克思主义的普遍真理同我国的具体实际结合起来，建设有中国特色的社会主义。 |
| 1992 年 | 计划多一点还是市场多一点，不是社会主义和资本主义的本质区别。社会主义的本质，是解放生产力，发展生产力，消灭剥削，消除两极分化，最终达到共同富裕。                               |

——摘编自张岂之主编《中国历史》等整理

从表中提取两条或两条以上信息，自拟论题，并结合中国近现代史知识予以阐述。

(要求：写明论题，阐述须有史实依据。)(12分)

(二) 选做题：共 25 分，请考生从 2 道地理题，3 道历史题中每科任选一道题作答。如果多做则每科按所做的第一题计分。

43. [地理——选修 3：旅游地理] (10 分)

江西武功山景区旅游资源丰富，平均海拔 1000~2000 米，徒步穿越路线相当成熟，基本不需要向导，沿山脊前行，部分路段要攀爬 60° 左右的陡峭山峰，有些岩壁上下需要手脚并用。近年来深受户外运动爱好者青睐，某驴友团规划了由沈子村到龙山村的徒步路线，拟于 8 月份前往。图 11 示意驴友团徒步路线。

分析该驴友团徒步过程中可能遇到的自然风险，并针对日益发展的徒步旅游，简述景区应采取的安全保障措施。




图 11

44. [地理——选修 6：环境保护] (10 分)

“梯壁留草”指对梯田壁上着生的杂草适当保护利用，而不完全连根刨除。“茶园里茶树上挂着蜘蛛网，一只蜘蛛从绿叶上爬过，透过蜘蛛网半米远，依稀可见茶树行间长着几簇杂草，茶园不时传来几声蛙鸣，不时有鸟儿在茶树枝头停憩。”这就是近年来某县“梯壁留草”生态环境保护战略的真实写照。这种茶园生态修复措施，使茶叶的品质得到了提升。

根据材料简述“梯壁留草”的生态循环原理。

45. (15 分) 【历史——选修 1：历史上重大改革回眸】

材料 村社是俄罗斯最基层的农村社会组织。1861 年俄国农奴制改革后，村社仍具有重分土地的经济职能，但重分土地的周期普遍延长，一些公社重分期限达 24 年，有的村社从改革起就没有重分过土地。改革后国家将村社正式纳入基层行政组织，使其管理更为正规化。村社在充当国家执行人的同时，依旧要维护村社的集体利益。“农民紧抱着村社不放，甚至不敢想象没有村社自己能否生存”。在暴力夺取地主土地的斗争中，村社更成为了农民天然的组织形式。列宁说：“1861 年诞生了 1905 年”。

“村社最大程度的努力吸收所有成年居民”参加村社大会。妇女也可以参与村社大会，一些地区妇女甚至拥有表决权。酗酒是俄国古老农村公社的陋习。1861 年，村社推出了第一批关于反对酗酒的决议，掀起反酗酒运动，还开展各种文化教育活动。

——摘编自王文娟《1861 年俄国农奴制改革前后村社职能嬗变的分析》

(1) 根据材料并结合所学知识，概括俄国 1861 年改革后村社的特点。(6 分)

(2) 根据材料并结合所学知识，简析俄国 1861 年改革后村社的作用。(9 分)

46. (15 分) 【历史——选修 3: 20 世纪的战争与和平】

材料 1969 年 7 月 25 日，尼克松在出访途中提出美国在亚洲的新政策，其要点是：越战结束后，美国仍将发挥重要作用，并恪守业已承担的条约义务。但除非受到核大国的威胁，美将鼓励其亚洲盟友自己承担国内安全和军事防务的责任。1970 年 2 月 8 日，尼克松在向国会提交的第一篇国情咨文中，把只是针对亚洲的新政策正式发展为美国新的全球战略即“尼克松主义”，宣布要以“伙伴关系”、“实力”、“谈判”三原则作为尼克松主义的“三个支柱”。其内容是：美国从实力地位出发，通过对话和谈判稳住苏联；承认西欧、日本同美国的“伙伴关系”，来获得盟国的支持，牵制苏联，达到战略收缩的目的；同时利用中苏矛盾，制约苏联，使美国在外交上有更大的主动权。并指出，其中心点是，美国将不再承担保卫世界自由国家的全部责任。

——摘编自赵平安、张仲明等主编《第二次世界大战后世界经济政治和国际关系》

(1) 据材料并结合所学知识，概括“尼克松主义”出台的历史背景。(6 分)

(2) 根据材料并结合所学知识，说明“尼克松主义”的影响。(9 分)

47. (15 分) 【历史——选修 4: 中外历史人物评说】

材料 1510 年，王阳明到江西庐陵县任职，其间庐陵县发生瘟疫，王阳明发告民书：“今灾疫大行，无知之民，惑于渐染之说，至有骨肉不相顾疗者。汤药膾粥不继，多饥饿以死。乃归咎于疫”……王阳明一方面“思所以救疗之道，惟在诸父老劝告子弟，兴行孝弟。各念尔骨肉，毋忍背弃”，号召“洒扫尔室宇，具尔汤药，时尔饘粥”；另一方面“贫弗能者，官给之药。”。王阳明认为“虽已遣医生，老人分行乡井，恐亦虚文无实”，主张“父老凡可以佐令之不逮者，悉已见告。”至当年十月王阳明离开庐陵时，疫情已基本解除。

——摘编自王阳明《告满庐陵父老子弟书》

(1) 根据材料并结合所学知识，概述王阳明的战疫措施。(9 分)

(2) 根据材料并结合所学知识，评析王阳明的战疫理念。(6 分)